




QR	Cvičení	Ukázka	QR
	<p><b>Lineární funkce</b>                      Určení předpisu, koeficientů ...                      ≡ 5 otázek ⌚ 600 min 📌 obtížnost 9  <b>AUDEWR</b> 🗳️ výběr z možností</p>	<p>Graf lineární funkce <math>y = ax - 3.5</math>                      prochází bodem ...</p>	
	<p><b>Lineární funkce</b>                      Určení předpisu, koeficientů ...                      ≡ 10 otázek ⌚ 1200 min 📌 obtížnost 9  <b>RAGUNT</b> 🗳️ výběr z možností</p>	<p>Které z bodů <math>A, B, C, D</math> leží na                      grafu funkce ...  <math>A[20; -39], B[3; 7], C[8; -15], D[\frac{1}{8}</math></p>	
	<p><b>Lineární funkce</b>                      Určení předpisu, koeficientů ...                      ≡ 20 otázek ⌚ ∞ min 📌 obtížnost 9  <b>TEHAGS</b> 🗳️ výběr z možností</p>	<p>Které z funkcí <math>f, g, h</math> jsou                      lineární?  <math>f : y = \frac{2}{3x} - 3, g : y = -3 - \frac{2}{3}x, h : y = \frac{2}{3}...</math></p>	